

HONVÉDELMI ALAPISMERETEK

KÖZÉPSZINTŰ ÍRÁSBELI ÉRETTSÉGI MINTAFELADATOK

A 2024. JANUÁR 1-TŐL BEVEZETÉSRE KERÜLŐ VIZSGAKÖVETELMÉNYEK SZERINT

Fontos tudnivalók

A feladatok megoldására 120 perc fordítható, az idő leteltével a munkát be kell fejeznie.

A feladatok megoldási sorrendje tetszőleges.

Az egyes feladatokra az ott feltüntetett pontszámnál több nem kapható.

A válaszok kitöltésekor törekedjen a precíz, pontos katonai szakkifejezések alkalmazására!

A feleletválasztásos típusú feladatoknál több helyes válasz is lehetséges.

Ha a feleletválasztásos kérdéseknél a lehetséges helyes válaszok mellett helytelen válaszokat is megad, akkor helytelen válaszonként 1 pont levonandó. Egyik feladatra sem kapható negatív pontszám.

Amennyiben a feleletválasztásos kérdéseknél a lehetséges válaszok mindegyikét bejelölte, nulla ponttal kell értékelni a feladatot.

A feladatok megoldását kék vagy fekete színű tollal készítse! Megoldásait alaposan gondolja át! Amennyiben valamilyen megoldást vagy választ javít, ügyeljen arra, hogy javítása egyértelmű legyen, mert kétes esetben nem fogadható el válasza!

Egyes katonai tereptan tartalmú feladatoknál a szöveges válasz és annak rövidített (betűjeles) változata is elfogadható (pl.: északi vagy É-i; keleti vagy K-i).

MINTAFELADATOK:

Hadtörténelmi alapismeretek

1. feladat

4 pont	
--------	--

Az alábbi felsorolásból válassza ki és húzza alá azokat az eseményeket, amelyek dátuma helyesen lett megjelölve!

- Limanovai csata – 1914. december
- Gorlicei áttörés – 1915. május 2.
- Pozsonyi csata – 1030. november 2.
- Pákozdi csata – 1848. szeptember 29.
- Mohácsi csata – 1526. augusztus 29.

2. feladat

3 pont	
--------	--

Az alábbiakban hat fogalmat és három fogalom-meghatározást olvashat. Válassza ki a felsorolásból és írja be a fogalom-meghatározás melletti téglalapba a megfelelő fogalmat!

hadsereg hadtörténelem hadtudomány háború rendőrség stratégia

Az államok fegyveres összeütközése, amikor a politikai célok elérése érdekében hadra kelnek a fegyveres erők.

Az államok saját politikai és katonai érdekérvényesítésére, védelmére fenntartott fegyveres erők.

A hadviselés, illetve a hadviselés stratégiai, taktikai és logisztikai elveinek a tudománya.

3. feladat

1 pont	
--------	--

Írja le helyesen az alábbi, Hunyadi János törökellenes politikájával kapcsolatos mondatot!

A magyar hadtörténelem egyik legjelentősebb győzelmeként tartjuk számon a szigetvári diadalt, amely során 1456-ban Hunyadi János és Kapisztrán János vezetésével jelentős vereséget mértünk az oszmán birodalom ostromló seregére.

.....

.....

.....

.....

.....

.....

Egészségügyi ismeretek

4. feladat

5 pont	
--------	--

Jelölje meg, hogy az alábbi állítások közül melyik igaz (I) és melyik hamis (H)!

A stabil oldalfekvő pozíció kialakításának célja, hogy a beteg/sérült légútjainak átjárhatósága folyamatosan megmaradjon, illetve a légutakba kerülő folyadék (nyál, hányadék) onnan mielőbb távozzon, és ne okozzon légúti akadályt.

Nyílt törés esetén a csonthártya és a belső kemény csontos állomány is megtörik, de felette a bőr folytonossága megmarad. Nagyon veszélyes, ha a törés helyén a csont törtvégek elmozdulnak, mert ilyenkor az éles csontvégek a lágyrészeket, így a vérereket is sérthetik, ami miatt súlyos belső (szövetek közé hatoló) vérzések alakulhatnak ki.

Elsősegélynek nevezzük az életveszély elhárítása és a további állapotromlás megakadályozása (pl. sebek fedése, a törött végtagok rögzítése, az égett testrész hűtése) érdekében végzett első segítségnyújtó tevékenységet a baleset/rosszullét helyszínén.

Az enyhe (kapilláris) vérzés időfaktora 30 perc, ellátása a mérgezésekkel egyidőben, katasztrófa vagy tömeges baleset esetén negyedikként történik.

Eszméletlenségről beszélünk akkor, ha a sérült/beteg él, de a külvilág reakcióira nem reagál. Ez a gyakorlatban azt jelenti, hogy a beteg nem ébred fel a hangos ébresztésre, a vállak gyenge megrázására nincs mozgásos válasza, vagy csak nagyon renyhe választ kapunk.

5. feladat

3 pont	
--------	--

Ismertesse a ficam legfontosabb jellemzőit, ellátásának módját!

.....

.....

.....

.....

.....

.....

.....

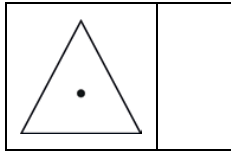
.....

Térkép- és tereptani alapismeretek


6. feladat

5 pont	
--------	--

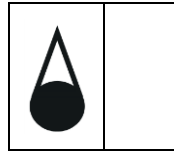
Párosítsa össze az alábbi jeleket és jelölő pontjaikat! Írja a jel melletti téglalapba a megfelelő jelölő pont sorszámát! (Az egyik sorszámot két helyre kell beírni!)



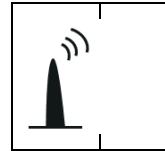
1 – A jel közepe




2 – az alsó idom közepe



3 – a derékszög csúcsa



4 – az alapvonal közepe



7. feladat

5 pont	
--------	--

Jellemezze a fedett terep hatásait a katonai tevékenységre!

.....

.....

.....

.....

.....

.....

.....

.....

8. feladat

2 pont	
--------	--

Egészítse ki az alábbi, UTM-rendszerre vonatkozó mondatot!

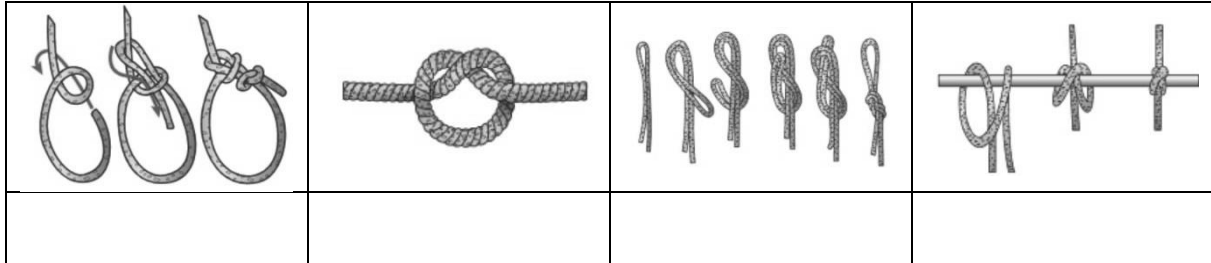
Az UTM-rendszerben a Föld felszínét 60 darab fokos zónára osztják. Minden zóna észak–déli irányban fel van osztva szélességi fokonként sávokra (övekre).

Túlélési ismeretek és táborozástechnika

9. feladat

4 pont

Nevezze meg a képeken látható kötéstípusokat! Válaszát a képek alatti téglalapba írja!



10. feladat

4 pont

Az alábbiakban az ehetőségi teszt lépéseit olvashatja nem megfelelő sorrendben! Írja be az alábbi táblázatba a lépések előtti betűket úgy, hogy azok a helyes sorrendet jelöljék!

- A) Rágjon össze egy kis darabot a növényből, majd pár perc után nyelje le! Várjon 5-8 órát és ne egyen semmi mást!
- B) Dörzsölje be az alkarját vagy a csuklóját a növény egy kis darabkájával! Ha bármilyen irritációt tapasztal, ne használja a növényt!
- C) Dörzsöljön össze egy kis darabot a növényből és szagolja meg! Ha keserűmandula-illata van, dobja el, nem ehető!
- D) Tegyen egy kis darabot az ajkára, majd 5-10 másodperces szünetekkel a szája sarkába, a nyelve hegyére, a nyelve alá. Ha bármilyen kellemetlen, égető, bizsergő, viszkető érzést tapasztal, azonnal függessze fel a próbát és öblítse ki a száját!

1. lépés betűjele	
2. lépés betűjele	
3. lépés betűjele	
4. lépés betűjele	

Biztonságpolitikai és válságreakáló alapismeretek

11. feladat

3 pont

Az alábbi felsorolásból válassza ki azokat az országokat, amelyek 2004-ben csatlakoztak a NATO-hoz!

- Csehország
- Lettország
- Magyarország
- Szlovákia
- Szlovénia

12. feladat

5 pont

Egészítse ki az alábbi szöveget a biztonsági kihívások típusainak megnevezésével!

Biztonsági kihívások a világban egy államot, egy társadalmat igen különböző területen érhetnek. Keveredhet háborúba (..... biztonság), bekövetkezhet államellenes puccs (..... biztonság), gazdasági válság (..... biztonság), természeti katasztrófa (.....biztonság) vagy polgárháború (..... biztonság).

13. feladat

4 pont

Soroljon fel négyet az ENSZ Biztonsági Tanács állandó tagjai közül!

.....
.....
.....

A honvédelem rendszere, a Magyar Honvédség

14. feladat

5 pont

Egészítse ki az alábbi felsorolást a különleges jogrendi helyzetek megnevezésével!

- terrorveszélyhelyzet
-
-
-
-
-

15. feladat

6 pont

Jelölje az alábbi táblázatban „X”-szel, hogy a megnevezett kötelékek tevékenységük szerint melyik csoportba tartoznak! (Egy-egy sorba két „X” kerüljön!)

kötélék megnevezése	harcis erők	harcis támogató erők	harcis kiszolgáló-támogató erők	fegyver-nemek	szak-csapatok
lövészszázad					
tüzérosztály					
térképész szolgálat					

16. feladat

1 pont

Egészítse ki az alábbi, a tényleges állományú katonákra vonatkozó mondatot!

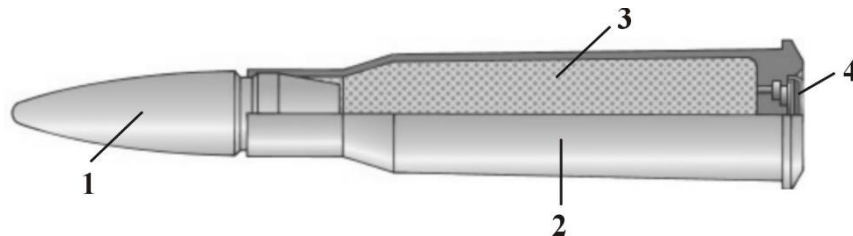
A tényleges állományú katonák közé tartoznak a hivatásos, a szerződéses és a(z) katonák, továbbá a honvéd tisztjelöltek és a honvéd altisztjelöltek.

Lőelmélet

17. feladat

4 pont

Nevezze meg a lövészlőszer képen látható fő részeit! Válaszát a táblázatba írja!



A kép forrása: Zentai Károly: Lőelmélet.

In: Honvédelmi alapismeretek tankönyv. Zrínyi Kiadó, Bp. 2019. 144. oldal.

1	
2	

3	
4	

18. feladat

4 pont

Rakja sorrendbe az alábbi tüzelési testhelyzeteket stabilitás szerint! A legkevésbé stabil tüzelési testhelyzettel kezdje, válaszát a táblázatba írja!

fekvő testhelyzet, térdelő testhelyzet, ülő testhelyzet, álló testhelyzet

1.	
2.	
3.	
4.	

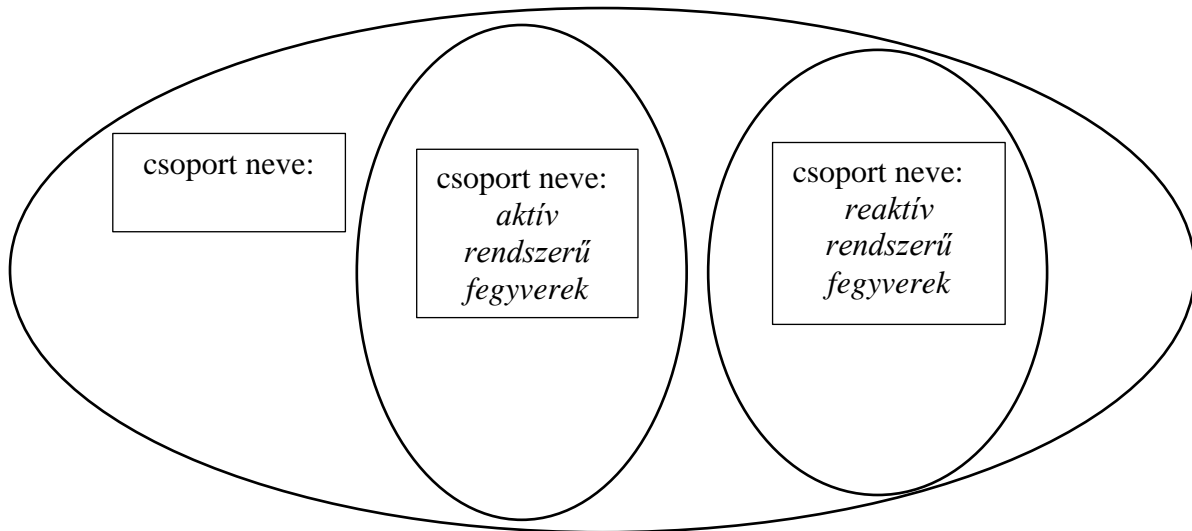
Haditechnikai ismeretek

19. feladat

7 pont

Írja be a halmazábra megfelelő helyére az alábbi fegyvermegnevezések előtti sorszámot!

- 1 – tűzfegyverek 2 – géppuska 3 – gépkarabély 4 – vállról indítható
 5 – sorozatvető 6 – ágyú 7 – géppuska páncéltörő gránátvető



20. feladat

4 pont

Nevezze meg az ábra alapján a pisztoly számmal jelölt, főbb részeit! Válaszait a táblázatba írja!

	1 –
	2 –
	3 –
	4 –

A kép forrása: sz.n.: A CZ P-07 és CZ P-09 pisztoly szerkezete. Magyar Honvédség oktatóablója. é.n.

21. feladat

1 pont

Írja le helyesen az alábbi, kézigránátra vonatkozó szöveget!

A 93M NF támadó kézigránát repeszhatása miatt csak fedezékből dobható, az ellenség élőerejének pusztítására, sebesítésére alkalmazzuk. Alkalmas még páncélozatlan vagy gyengén páncélozott járművek, fedezékek, műszaki akadályok rongálására.

.....

.....

.....

.....

.....

.....

Általános katonai ismeretek

22. feladat

4 pont

Párosítsa össze az alábbi fogalmakat és meghatározásokat! Írja a fogalmak megnevezése előtt álló számokat a meghatározások mellett lévő négyzetbe!

1 – harc 2 – csapás 3 – manőver 4 – tűz

A harc alapvető tartalma, a csapás szerves része, az ellenség pusztításának alapvető eszköze.

Az ellenség megsemmisítésének legfőbb feltétele. Lényege a fegyverfajták tüzének, valamint a csapatoknak az ellenség csapataira kifejtett erőteljes ráhatása.

A fegyveres küzdelem alapvető formája, a küzdő felek fegyvernemi egységeinek és alegységeinek szervezett összecsapása.

A csapatok mozgása, amelyet tűzzel támogatnak azért, hogy egy olyan előnyös pozícióba kerüljenek, ahonnan képesek elpusztítani vagy fenyegetni az ellenséget.

23. feladat

4 pont

Saját szavaival fogalmazza meg, hogy mi a maghasadás lényege!

.....

.....

.....

24. feladat

2 pont	
---------------	--

Egészítse ki az alábbi, a paranccsal kapcsolatos szöveget!

A parancs nem irányulhat az alárendelt indokolatlan zaklatására, megsértésére, elkövetésére.

25. feladat

2 pont	
---------------	--

Soroljon fel a katonai napirend fő pontjai közül kettő olyat, amely egy átlagos középiskolai kollégium napirendjében nem fordul elő!

.....

Hadijogi alapismeretek

26. feladat

4 pont	
---------------	--

Sorolja fel azt a négy adatot, amelyet a hadifoglyok névjegyzéke tartalmazhat az anyakönyvi számon kívül!

.....

.....

27. feladat

4 pont	
---------------	--

Saját szavaival határozza meg a meglepő akna fogalmát! Írjon két példát meglepő aknákra (nevezzen meg két olyan területet, amellyel kapcsolatba hozható robbanóeszközök alkalmazása minden körülmények között tilos)!

.....

.....

.....

.....

.....

.....

.....

Útmutató a vizsgázók teljesítményének értékeléséhez
(az értékelő tanárok részére)

A dolgozat javításakor részpontok adhatók, ha a javítási-értékelési útmutató megengedi.

Ha a vizsgázó a feleletválasztásos kérdéseknél a lehetséges helyes válaszok mellett helytelen válaszokat is megad, akkor helytelen válaszonként 1 pont levonandó. Egyik feladatra sem adható negatív pontszám.

Amennyiben a vizsgázó a feleletválasztásos kérdéseknél a lehetséges válaszok mindegyikét bejelölte, nulla ponttal kell értékelni a feladatot.

Amennyiben az adott feladatnál a megoldás egy definíció, abban az esetben csak a konkrét, a javítási-értékelési útmutatóban megjelölt fogalomért adható pont.

A javítási-értékelési útmutatóban ferde vonallal (/) jeleztük az egymással egyenértékű helyes válaszokat.

A programba csak egész pontszám írható be. A végső összesítésnél esetlegesen keletkezett tört összpontszámot a matematika szabályai szerint egész számra kerekítve kell beírni (pl.: 23,33 pont kerekítve 23 pont, 23,5 pont vagy 23,66 pont kerekítve 24 pont. Lásd: feladatsor utolsó oldal, alsó táblázat.)

Egyes katonai tereptan tartalmú feladatoknál a szöveges válasz és annak rövidített (betűjeles) változata is elfogadható (pl.: északi vagy É-i; keleti vagy K-i).

MEGOLDÁSOK:

Hadtörténelmi alapismeretek

1. feladat

4 pont

Az alábbi felsorolásból válassza ki és húzza alá azokat az eseményeket, amelyek dátuma helyesen lett megjelölve!

- Limánovai csata – 1914. december (1 pont)
- Gorlicei áttörés – 1915. május 2. (1 pont)
- Pozsonyi csata – 1030. november 2.
- Pákozdai csata – 1848. szeptember 29. (1 pont)
- Mohácsi csata – 1526. augusztus 29. (1 pont)

2. feladat

3 pont

Az alábbiakban hat fogalmat és három fogalom-meghatározást olvashat. Válassza ki a felsorolásból és írja be a fogalom-meghatározás melletti téglalapba a megfelelő fogalmat!

hadsereg hadtörténelem hadtudomány háború rendőrség stratégia

Az államok fegyveres összeütközése, amikor a politikai célok elérése érdekében hadra kelnek a fegyveres erők.

háború

Az államok saját politikai és katonai érdekérvényesítésére, védelmére fenntartott fegyveres erők.

hadsereg

A hadviselés, illetve a hadviselés stratégiai, taktikai és logisztikai elveinek a tudománya.

hadtudomány

Minden helyes válasz 1 pont.

3. feladat

1 pont

Írja le helyesen az alábbi, Hunyadi János törökellenes politikájával kapcsolatos mondatot!

A magyar hadtörténelem egyik legjelentősebb győzelmeként tartjuk számon a ~~szigetvári~~ **nándorfehérvári** diadalt, amely során 1456-ban Hunyadi János és Kapisztrán János vezetésével jelentős vereséget mértünk az oszmán birodalom ostromló seregére.

Egészségügyi ismeretek

4. feladat

5 pont

Jelölje meg, hogy az alábbi állítások közül melyik igaz (I) és melyik hamis (H)!

A stabil oldalfekvő pozíció kialakításának célja, hogy a beteg/sérült légútjainak átjárhatósága folyamatosan megmaradjon, illetve a légutakba kerülő folyadék (nyál, hányadék) onnan mielőbb távozzon, és ne okozzon légúti akadályt.

Nyílt törés esetén a csonthártya és a belső kemény csontos állomány is megtörik, de felette a bőr folytonossága megmarad. Nagyon veszélyes, ha a törés helyén a csont törtvégek elmozdulnak, mert ilyenkor az éles csontvégek a lágyrészeket, így a vérereket is sérthetik, ami miatt súlyos belső (szövetek közé hatoló) vérzések alakulhatnak ki.

Elsősegélynek nevezzük az életveszély elhárítása és a további állapotromlás megakadályozása (pl. sebek fedése, a törött végtagok rögzítése, az égett testrész hűtése) érdekében végzett első segítségnyújtó tevékenységet a baleset/rosszullét helyszínén.

Az enyhe (kapilláris) vérzés időfaktora 30 perc, ellátása a mérgezésekkel egyidőben, katasztrófa vagy tömeges baleset esetén negyedikként történik.

Eszméletlenségről beszélünk akkor, ha a sérült/beteg él, de a külvilág reakcióira nem reagál. Ez a gyakorlatban azt jelenti, hogy a beteg nem ébred fel a hangos ébresztésre, a vállak gyenge megrázására nincs mozgásos válasza, vagy csak nagyon renyhe választ kapunk.

I

H

I

H

I

Minden helyes válasz 1 pont.

5. feladat

3 pont

Ismertesse a ficam legfontosabb jellemzőit, ellátásának módját!

Ficam esetén a kimozdult ízületi fej nem tér vissza az ízületi tokba. A kimozdulás rögzített marad, távolról is látható deformitást mutat, amely mellett ízületi mozgás nincs vagy elenyésző. A ficamot csak orvos teheti vissza a helyére!


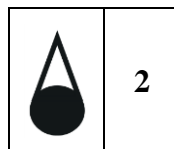
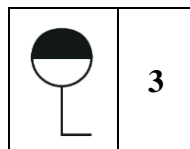
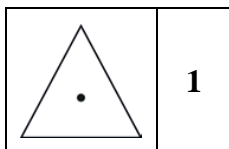
Bármely más megfogalmazás is elfogadható, amely tartalmazza az aláhúzott lényegi részeket. Részpontoszám adható, tört pontszám nem adható.

Térkép- és tereptani alapismeretek

6. feladat

5 pont

Párosítsa össze az alábbi jeleket és jelölő pontjaikat! Írja a jel melletti téglalapba a megfelelő jelölő pont sorszámát!



Minden helyes válasz 1 pont.

7. feladat

5 pont

Jellemezze a fedett terep hatásait a katonai tevékenységre!

A fedett terepen a magas növényzet és az építmények az áttekintést gátolják, a mozgást akadályozzák. A fedett terep megkönnyíti a fedett megközelítést, elősegíti az álcázást és rejtést, ugyanakkor megnehezíti a tűzvezetést, megfigyelést, tájékozódást.

Bármely más megfogalmazás is elfogadható, amely tartalmazza az aláhúzott lényegi részeket. Részpontoszám adható, tört pontszám nem adható.

8. feladat

2 pont

Egészítse ki az alábbi, UTM-rendszerre vonatkozó mondatot!



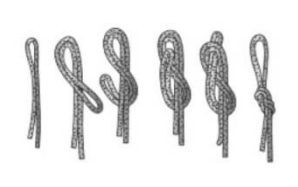

Az UTM-rendszerben a Föld felszínét 60 darab **6 (1 pont)** fokos zónára osztják. Minden zóna észak–déli irányban fel van osztva **8 (1 pont)** szélességi fokonként sávokra (övekre).

Túlélési ismeretek és táborozástechnika

9. feladat

4 pont

Nevezze meg a képeken látható kötéstípusokat! Válaszát a képek alatti téglalapba írja!

			
bulincsomó	félcsomó	nyolcashurok	szorítónyolcas

Minden helyes válasz 1 pont.

10. feladat

4 pont

Az alábbiakban az ehetőségi teszt lépéseit olvashatja nem megfelelő sorrendben. Írja le a lépések előtti betűket úgy, hogy azok a helyes sorrendet jelöljék!

A) Rágjon össze egy kis darabot a növényből, majd pár perc után nyelje le! Várjon 5-8 órát és ne egyen semmi mást!

B) Dörzsölje be az alkarját vagy a csuklóját a növény egy kis darabkájával! Ha bármilyen irritációt tapasztal, ne használja a növényt!

C) Dörzsöljön össze egy kis darabot a növényből és szagolja meg! Ha keserűmandula-illata van, dobja el, nem ehető!

D) Tegyen egy kis darabot az ajkára, majd 5-10 másodperces szünetekkel a szája sarkába, a nyelve hegyére, a nyelve alá. Ha bármilyen kellemetlen, égető, bizsergő, viszkető érzést tapasztal, azonnal függeszse fel a próbát és öblítse ki a száját!

1. lépés betűjele	C
2. lépés betűjele	B
3. lépés betűjele	D
4. lépés betűjele	A

Biztonságpolitikai és válságreakáló alapismeretek

11. feladat

3 pont

Az alábbi felsorolásból válassza ki azokat az országokat, amelyek 2004-ben csatlakoztak a NATO-hoz!

- Csehország
- **Lettország (1 pont)**
- Magyarország
- **Szlovákia (1 pont)**
- **Szlovénia (1 pont)**

12. feladat

5 pont

Égészítse ki az alábbi szöveget a biztonsági kihívások típusainak megnevezésével!

Biztonsági kihívások a világban egy államot, egy társadalmat igen különböző területen érhetnek. Keveredhet háborúba (**katonai** biztonság), bekövetkezhet államellenes puccs (**politikai** biztonság), gazdasági válság (**gazdasági** biztonság), természeti katasztrófa (**környezet**biztonság) vagy polgárháború (**társadalmi** biztonság).

Minden helyes válasz 1 pont.

13. feladat

4 pont

Soroljon fel négyet az ENSZ Biztonsági Tanács állandó tagjai közül!

Amerikai Egyesült Államok/USA, Egyesült Királyság/UK/Nagy-Britannia, Franciaország, Kína, Oroszország

Bármely helyes megnevezés 1 pont, legfeljebb 4 pont adható. Amennyiben 4 országnévnél többet nevez meg a vizsgázó, helytelen válaszonként 1 pont levonandó, de negatív pontszám nem adható.

A honvédelem rendszere, a Magyar Honvédség

14. feladat

5 pont

Egészítse ki az alábbi felsorolást a különleges jogrendi helyzetek megnevezésével!

- terrorveszélyhelyzet
- **rendkívüli állapot**
- **megelőző védelmi helyzet**
- **szükségállapot**
- **váratlan támadás**
- **veszélyhelyzet**

Minden helyes válasz 1 pont. A megnevezések bármilyen sorrendben szerepelhetnek.

15. feladat

6 pont

Jelölje az alábbi táblázatban „X”-szel, hogy a megnevezett kötelékek tevékenységük szerint melyik csoportba tartoznak!

kötélék megnevezése	harci erők	harci támogató erők	harci kiszolgáló-támogató erők	fegyver-nemek	szak-csapatok
lövészszázad	X			X	
tüzérosztály		X		X	
logisztikai zászlóalj			X		X

Minden helyes válasz 1 pont. Helytelen válaszonként 1 pont levonandó. Negatív pontszám nem adható.

16. feladat

1 pont

Egészítse ki az alábbi, a tényleges állományú katonákra vonatkozó mondatot!

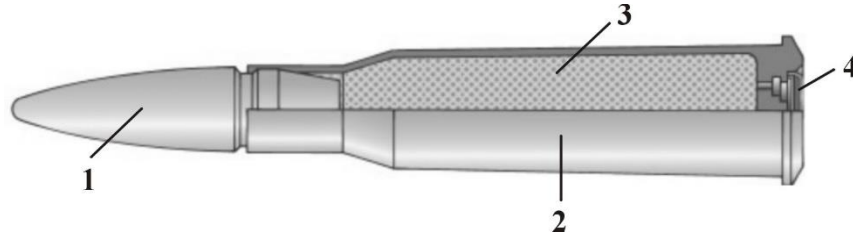
A tényleges állományú katonák közé tartoznak a hivatásos, a szerződéses és a(z) **önkéntes tartalékos (1 pont)** katonák, továbbá a honvéd tisztjelöltek és a honvéd altisztjelöltek.

Lőelmélet

17. feladat

4 pont

Nevezze meg a lövészlőszer képen látható fő részeit! Válaszát a táblázatba írja!



1	lövédék (1 pont)
2	hüvely (1 pont)

3	lőpor (1 pont)
4	csappantyú (1 pont)

18. feladat

4 pont

Rakja sorrendbe az alábbi tüzelési testhelyzeteket stabilitás szerint! A legkevésbé stabil tüzelési testhelyzettel kezdje, válaszát a táblázatba írja!

fekvő testhelyzet, térdelő testhelyzet, ülő testhelyzet, álló testhelyzet

1.	álló testhelyzet (1 pont)
2.	térdelő testhelyzet (1 pont)
3.	ülő testhelyzet (1 pont)
4.	fekvő testhelyzet (1 pont)

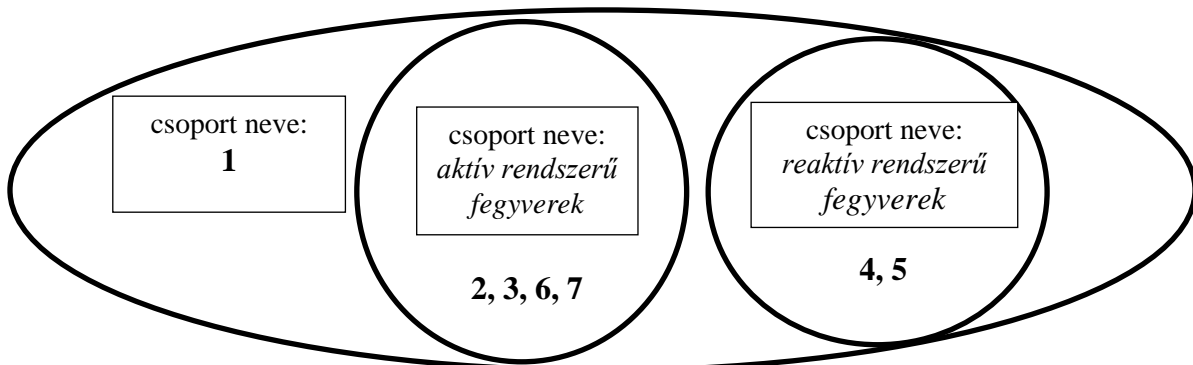
Haditechnikai ismeretek

19. feladat

7 pont

Írja be a halmazábra megfelelő helyére az alábbi fegyvermegnevezések előtti sorszámot!

1 – tűzfegyverek 2 – géppuska 3 – gépkarabély 4 – vállról indítható
5 – sorozatvető 6 – ágyú 7 – géppuska páncéltörő gránátvető

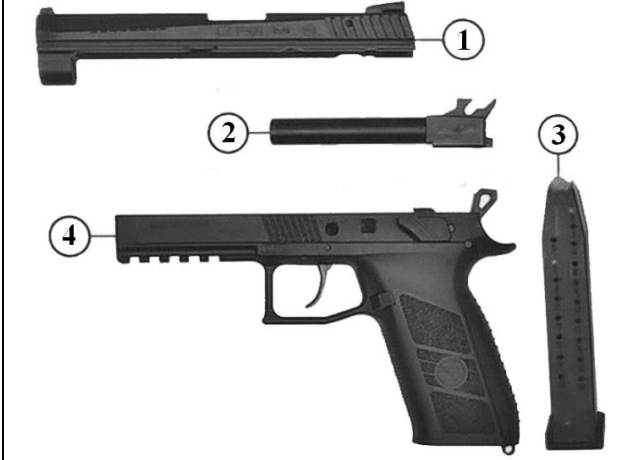


Minden helyes válasz 1 pont.

20. feladat

4 pont

Nevezze meg az ábrán a pisztoly számmal jelölt, főbb részeit! Válaszait a táblázatba írja!

	1 – szán (1 pont)
	2 – cső (1 pont)
	3 – tár (1 pont)
	4 – tok (1 pont)

21. feladat

1 pont

Írja le helyesen az alábbi, kézigránátra vonatkozó szöveget!

A 93M NF ~~támadó~~ **védő** kézigránát repeszhatása miatt csak fedezékből dobható, az ellenség élőerejének pusztítására, sebesítésére alkalmazzuk. Alkalmas még páncélozatlan vagy gyengén páncélozott járművek, fedezékek, műszaki akadályok rongálására.

Általános katonai ismeretek

22. feladat

4 pont

Párosítsa össze az alábbi fogalmakat és meghatározásokat! Írja a fogalmak megnevezése előtt álló számokat a meghatározások mellett lévő négyzetbe!

1 – harc 2 – csapás 3 – manőver 4 – tűz

A harc alapvető tartalma, a csapás szerves része, az ellenség pusztításának alapvető eszköze.

Az ellenség megsemmisítésének legfőbb feltétele. Lényege a fegyverfajták tüzének, valamint a csapatoknak az ellenség csapataira kifejtett erőteljes ráhatása.

A fegyveres küzdelem alapvető formája, a küzdő felek fegyvernemi egységeinek és alegységeinek szervezett összecsapása.

A csapatok mozgása, amelyet tüzrellel támogatnak azért, hogy egy olyan előnyös pozícióba kerüljenek, ahonnan képesek elpusztítani vagy fenyegetni az ellenséget.

4
2
1
3

Minden helyes válasz 1 pont.

23. feladat

4 pont

Saját szavaival fogalmazza meg, hogy mi a maghasadás lényege!

A maghasadás (fisszió) olyan nagy sebességű magfizikai reakció, amely során egyes nehéz radioaktív atommagok kisebb tömegű atommagokká alakulnak át, miközben nagy mennyiségű energia és szabad neutronok szabadulnak fel.

Bármely más megfogalmazás is elfogadható, amely tartalmazza az aláhúzott lényegi részeket. Részpontoszám adható, tört pontszám nem adható.

24. feladat

2 pont

Egészítse ki az alábbi, a paranccsal kapcsolatos szöveget!

A parancs nem irányulhat az alárendelt indokolatlan zaklatására, **emberi méltóságának (1 pont)** megsértésére, **bűncselekmény (1 pont)** elkövetésére.

25. feladat

2 pont

Soroljon fel a katonai napirend fő pontjai közül kettő olyat, amely egy átlagos középiskolai kollégium napirendjében nem fordul elő!

pl. reggeli torna, kihallgatás, parancskihirdetés

Bármely helyes megnevezés 1 pont, legfeljebb 2 pont adható. Amennyiben 2 napirendi pontnál többet nevez meg a vizsgázó, helytelen válaszonként 1 pont levonandó, de negatív pontszám nem adható.

Hadijogi alapismeretek

26. feladat

4 pont

Sorolja fel azt a négy adatot, amelyet a hadifoglyok névjegyzéke tartalmazhat az anyakönyvi számon kívül!

családi név, utónév/utónevek, rendfokozat, születési idő

Bármely helyes megnevezés 1 pont, legfeljebb 4 pont adható. Amennyiben 4 adatnál többet nevez meg a vizsgázó, helytelen válaszonként 1 pont levonandó, de negatív pontszám nem adható.

27. feladat

4 pont

Saját szavaival határozza meg a meglepő akna fogalmát! Írjon két példát meglepő aknákra (nevezzen meg két olyan területet, amellyel kapcsolatba hozható robbanóeszközök alkalmazása minden körülmények között tilos)!

A meglepőakna váratlanul lép működésbe akkor, amikor egy személy látszólag teljesen veszélytelen tevékenységet végez.

Példák robbanóeszközök tiltott alkalmazási területére:

- **gyermekjátékok, továbbá minden olyan hordozható tárgy és termék, amely táplálkozásra, egészségvédelemre, öltözködési célra vagy a gyermekek oktatására szolgál;**
- **nemzetközileg elismert mentességet biztosító jelvények, jelek vagy jelzések;**
- **beteg, sebesült vagy halottak, állatok vagy azok teteme;**
- **Egészségügyi objektumok, berendezések, felszerelések vagy szállítóeszközök;**
- **élelmiszerek;**
- **egyértelműen vallási jellegű tárgyak.**

A meghatározásnál bármely más megfogalmazás is elfogadható, amely tartalmazza az aláhúzott lényegi részeket. A példánál bármely más, helyes példa elfogadható. A meghatározásra 2 pont, a két példára példánként 1-1 pont, mindösszesen 4 pont adható. Részpontoszám adható, tört pontszám nem adható.